



Express each number using tally marks.

1) 22 \_\_\_\_\_

2) 51 \_\_\_\_\_

3) 71 \_\_\_\_\_

4) 54 \_\_\_\_\_

5) 16 \_\_\_\_\_

6) 7 \_\_\_\_\_

7) 13 \_\_\_\_\_

8) 61 \_\_\_\_\_

9) 19 \_\_\_\_\_




10) 6 \_\_\_\_\_

11) 37 \_\_\_\_\_

12) 34 \_\_\_\_\_



Express each number using tally marks.

1) 22 2) 51 3) 71 4) 54 5) 16 6) 7 7) 13 8) 61 9) 19 10) 6 11) 37 12) 34 